

Dobrý den, moji milí,

opět vás zdravím, tentokrát už se 7. listem domácích úkolů. Pilně pracujte, ať nejste za svými spolužáky pozadu. Pojdme na to! :o)) Jakmile budete mít práci hotovou, pošlete mi ji vyfocenou na email: kamilabezka@seznam.cz **Od některých z vás dosud žádné vypracované úkoly nemám :o(, dodělávejte, ať máte splněno, bude se hodnotit!**

ČJ

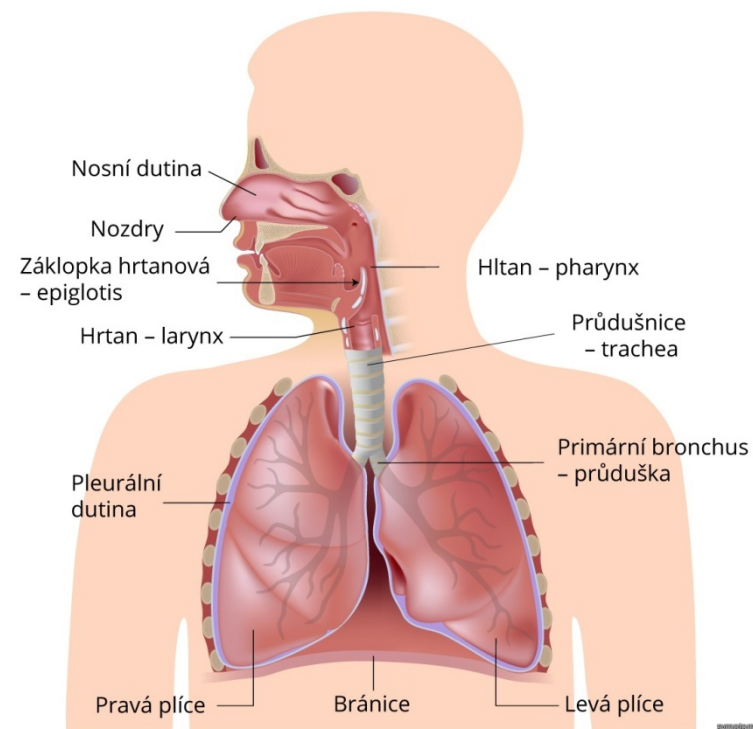
- **Zapiš si** přehledně a barevně: **Číslovky určité a neurčité** a **Druhy číslovek** (najdeš je na s. 93 v učebnici, ve žlutých rámečcích).
 - **Rozděl** do sešitu číslovky ze cv. 4 (s. 93) na určité a neurčité (rozděl si stránku v sešitě na 2 sloupce).
 - Ve cv 6 na s. 93 **vyhledej** číslovky, **zapiš** je do sešitu a **urči** jejich druh.
 - Přidej **do sešitu** povídání o **číslovkách řadových** ze s. 94 (žlutý rámeček).
 - **Přepiš** do sešitu cv. 9 (s. 94) a **doplň** tečky za číslovky řadové, kam patří.
 - S maminkou zajdi **na poštu** a vyzvedni si tam **složenkou** na posílání peněz a pokus se ji vyplnit. Maminka ti jistě poradí. Nalep si ji do sešitu.
-

PŘ

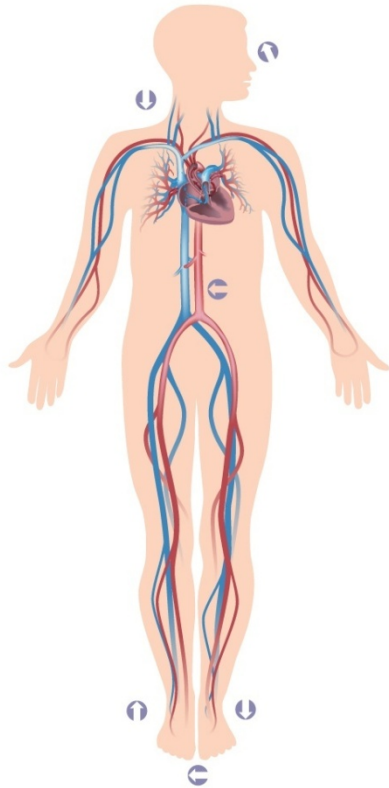
- **Přečti si** v učebnici kapitoly **Nepostradatelný dech** a **Neúnavné srdce** (s. 57-58).
- Do sešitu si **vypiš** růžový rámeček ze s. 57 (nezapomeň na nadpis) a **namaluj** si obrázek **dýchací soustavy** s popisem.
- Zkus spočítat, **kolikrát se nadechneš za 1 minutu**, když ležíš v klidu a **kolikrát, když oběhneš 5 krát stůl**. Zapiš si zjištěné údaje do sešitu.

- Vypiš si ze s. 58 k nadpisu **Srdce a cévy** do sešitu: co je **srdce**, kde je uloženo a jak pracuje, co jsou **tepny, žíly, vlasečnice** a co je **krev** a jaké má funkce.
 - **Namaluj** si barevně obrázek **stavba oběhové soustavy** (s. 58).
 - **Podívej** se na videa:
 - <https://www.youtube.com/watch?v=hnXgTW4zQq4>
 - <https://www.youtube.com/watch?v=8VsQ7PPFgPs>
 - <https://www.youtube.com/watch?v=1Z3nSM0Kfms>
 - <https://www.youtube.com/watch?v=CJjzBnzcE>
-

Dýchací systém

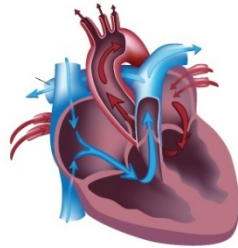


Oběhová soustava člověka



Velký oběh

začíná v levé srdeční komoře, odkud je okysličená krev tepnami odváděna do celého těla. Odkysličená krev je pak přiváděna žilami do pravé síně v srdci.



Malý oběh

začíná v pravé srdeční komoře. Odtud je odkysličená krev vedena tepnami do plic. Z plic je přiváděna okysličená krev do levé síně srdeční.

symptomny.cz

VL

- **Přečti** si povídání o revolučním roce 1848 v učebnici (s. 29-30)
- **Zapiš** si do sešitu **Zapamatuj si!** ze s. 30 (nezapomeň na nadpis kapitoly).
- V příloze **Vlastivěda 1 a 2** si přečti komiks a povídání o revoluci v roce 1848.
- **Zodpověz** do sešitu celými větami **otázky:**
 1. Jaké názory se prosazovaly v osvícenských myšlenkách?
 2. Co chtěly utlačované národy?
 3. Jakým způsobem se rozhodli dosáhnout svobody v roce 1848?
 4. Jaký císař tehdy vládl Rakousku-Uhersku?
 5. Ja se jmenoval tvrdý a nenáviděný kancléř, který vládnul ve skutečnosti?
 6. Do kterého města se přestěhoval rakouský Říšský sněm v r. 1848?
 7. Jak se jmenoval nový císař, který sesadil z trůnu starého?
 8. Jak se jmenoval generál, který revoluci tvrdě potlačil?
 9. Jak se jmenoval nový ministr, který vládl ještě tvrději, než ten dřívější?
- **Shlédni** videa:
 - <https://www.youtube.com/watch?v=ty7z4mEKAYI>
 - <https://www.youtube.com/watch?v=hM7zroMLJBO>
 - <https://www.youtube.com/watch?v=U1K0esnwkUI>